



الرياضيات

الصف الأول - كتاب التمارين

الفصل الدراسي الثاني

1

فريق التأليف

د. عمر محمد أبوغليون (رئيسًا)

أحمد محمود البشتاوي

هبة ماهر التيمي

الناشر: المركز الوطني لتطوير المناهج

يسر المركز الوطني لتطوير المناهج استقبال آرائكم وملحوظاتكم على هذا الكتاب عن طريق العناوين الآتية:

☎ 06-5376262 / 237 📠 06-5376266 ✉ P.O.Box: 2088 Amman 11941

🌐 @nccdjor @ feedback@nccd.gov.jo 🌐 www.nccd.gov.jo

قرّرت وزارة التربية والتعليم تدريس هذا الكتاب في مدارس المملكة الأردنية الهاشمية جميعها، بناءً على قرار المجلس الأعلى للمركز الوطني لتطوير المناهج في جلسته رقم (2020/7)، تاريخ 2020/12/1م، وقرار مجلس التربية والتعليم رقم (2020/150)، تاريخ 2020/12/17م، بدءاً من العام الدراسي 2020 / 2021م.

© HarperCollins Publishers Limited 2020.

- Prepared Originally in English for the National Center for Curriculum Development. Amman - Jordan

- Translated to Arabic, adapted, customised and published by the National Center for Curriculum Development. Amman - Jordan

ISBN: 978-9923-41-367-8

المملكة الأردنية الهاشمية
رقم الإيداع لدى دائرة المكتبة الوطنية:
(2022/4/2058)

375.001

الأردن. المركز الوطني لتطوير المناهج

الرياضيات: الصف الأول: كتاب التمارين (الفصل الدراسي الأول) / المركز الوطني لتطوير المناهج. - ط2؛

مزيدة ومنقحة. - عمان: المركز، 2022

(40) ص.

ر.إ.: 2022/4/2058

الواصفات: / تطوير المناهج / المقررات المدرسية / مستويات التعليم / المناهج /

يتحمّل المؤلف كامل المسؤولية القانونية عن محتوى مُصنّفه، ولا يُعبّر هذا المُصنّف عن رأي دائرة المكتبة الوطنية.

All rights reserved. No part of this publication may be reproduced, sorted in retrieval system, or transmitted in any form by any means, electronic, mechanical, photocopying, recording or otherwise, without the prior written permission of the publisher or a license permitting restricted copying in the United Kingdom issued by the Copyright Licensing Agency Ltd, Barnard's Inn, 86 Fetter Lane, London, EC4A 1EN.

British Library Cataloguing -in- Publication Data

A catalogue record for this publication is available from the Library.

1441 هـ / 2020 م
2021 م - 2025 م

الطبعة الأولى (التجريبية)
أعيدت طباعته

أعزّاءنا الطلبة ...

يحتوي هذا الكتاب تمارين متنوعة أعدت بعناية لتغنيكم عن استعمال مراجع إضافية، وهي استكمال للتمارين الواردة في كتاب الطالب، وتهدف إلى مساعدتكم على ترسيخ المفاهيم التي تتعلمونها في كل درس، وتنمي مهارتكم الحسابية.

تساعدكم الصفحات التي عنوانها (أستعد لدراسة الوحدة) في بداية كل وحدة على مراجعة المفاهيم التي درستوها سابقاً؛ مما يعزز قدرتكم على متابعة التعلم في الوحدة الجديدة بسلاسة ويسر.

يوجد فراغ كافٍ إن شاء الله لكل تمرين للكتابة إجابته، وإذا لم يتسع هذا الفراغ لخطوات الحل جميعها فيمكنكم استعمال دفتر إضافي للكتابة بوضوح.

تمنين لكم تعلمًا ممتعًا وميسرًا.

المركز الوطني لتطوير المناهج

قائمة المحتويات

الوحدة ⑥ الجَمْعُ ضَمَنَ مَنْزِلَتَيْنِ

- 6 أَسْتَعِدُّ لِدِرَاسَةِ الْوَحْدَةِ
- 7 الدَّرْسُ 1 جَمْعُ الْعَشَرَاتِ
- 8 الدَّرْسُ 2 الْجَمْعُ الذَّهْنِيُّ
- 9 الدَّرْسُ 3 جَمْعُ عَدَدَيْنِ مِنْ مَنْزِلَتَيْنِ
- 10 الدَّرْسُ 4 خُطَّةُ حَلِّ الْمَسْأَلَةِ: التَّخْمِينُ وَالتَّحَقُّقُ

الوحدة ⑦ الطَّرْحُ ضَمَنَ مَنْزِلَتَيْنِ

- 11 أَسْتَعِدُّ لِدِرَاسَةِ الْوَحْدَةِ
- 12 الدَّرْسُ 1 طَرْحُ الْعَشَرَاتِ
- 13 الدَّرْسُ 2 الطَّرْحُ الذَّهْنِيُّ
- 14 الدَّرْسُ 3 طَرْحُ عَدَدَيْنِ مِنْ مَنْزِلَتَيْنِ
- 15 الدَّرْسُ 4 مَهَارَةُ حَلِّ الْمَسْأَلَةِ: اخْتِيَارُ الْعَمَلِيَّةِ

الوحدة ⑧ الأشكال الهندسيّة

- 16 أَسْتَعِدُّ لِدِرَاسَةِ الْوَحْدَةِ
- 17 الدَّرْسُ 1 الْمُجَسَّمَاتُ
- 18 الدَّرْسُ 2 الْأَشْكَالُ الْمُسْتَوِيَّةُ
- 19 الدَّرْسُ 3 أَضْلَاحُ الْأَشْكَالِ الْمُسْتَوِيَّةِ وَرُؤُوسُهَا
- 20 الدَّرْسُ 4 الْأَنْمَاطُ الْهَنْدَسِيَّةُ

الوحدة ⑨ الكسور

- 21 أَسْتَعِدُّ لِدِرَاسَةِ الْوَحْدَةِ
- 22 الدَّرْسُ 1 الْأَجْزَاءُ الْمُتَطَابِقَةُ

قائمة المحتويات

- الدَّرْسُ 2 النِّصْفُ 23
- الدَّرْسُ 3 الرَّبْعُ 24
- الدَّرْسُ 4 الْكُسْرُ كَجُزٍّ مِنْ مَجْمُوعَةٍ 25

الْوَحْدَةُ 10 الزَّمَنُ وَالنُّقُودُ

- أَسْتَعِدُّ لِدِرَاسَةِ الْوَحْدَةِ 26
- الدَّرْسُ 1 أَيَّامُ الْأُسْبُوعِ 27
- الدَّرْسُ 2 تَرْتِيبُ الْأَعْمَالِ الْيَوْمِيَّةِ 28
- الدَّرْسُ 3 الْوَقْتُ بِالسَّاعَاتِ الْكَامِلَةِ 29
- الدَّرْسُ 4 الْوَقْتُ بِنِصْفِ السَّاعَةِ 30
- الدَّرْسُ 5 الْقِطْعُ النَّقْدِيُّ 31
- الدَّرْسُ 6 الْقِطْعُ النَّقْدِيُّ الْمَتَسَاوِي 32
- الدَّرْسُ 7 اسْتِعْمَالُ الْقِطْعِ النَّقْدِيِّ 33

الْوَحْدَةُ 11 الْقِيَاسُ

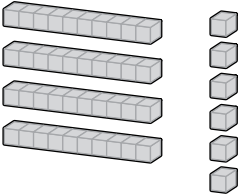
- أَسْتَعِدُّ لِدِرَاسَةِ الْوَحْدَةِ 34
- الدَّرْسُ 1 مُقَارَنَةُ الْأَطْوَالِ وَتَرْتِيبُهَا 35
- الدَّرْسُ 2 وَحَدَاتُ الطَّوْلِ غَيْرُ الْقِيَاسِيَّةِ 36
- الدَّرْسُ 3 مُقَارَنَةُ الْكُتْلِ وَتَرْتِيبُهَا 37
- الدَّرْسُ 4 وَحَدَاتُ الْكُتْلَةِ غَيْرُ الْقِيَاسِيَّةِ 38
- الدَّرْسُ 5 مُقَارَنَةُ السَّعَاتِ وَتَرْتِيبُهَا 39
- الدَّرْسُ 6 وَحَدَاتُ السَّعَةِ غَيْرُ الْقِيَاسِيَّةِ 40

الْوَحْدَةُ 6 الْجَمْعُ ضَمْنَ مَنْزِلَتَيْنِ

أَسْتَعِدُّ لِدِرَاسَةِ الْوَحْدَةِ

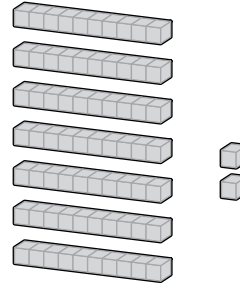
أَكْتُبْ عَدَدَ الْآحَادِ وَعَدَدَ الْعَشَرَاتِ:

1



آحَادُ عَشَرَاتُ

2



آحَادُ عَشَرَاتُ

أَكْتُبْ عَدَدَ الْآحَادِ وَعَدَدَ الْعَشَرَاتِ:

3

57

آحَادُ عَشَرَاتُ

4

19

آحَادُ عَشَرَاتُ

5

61

آحَادُ عَشَرَاتُ

6 أَكْتُبْ الْأَعْدَادَ الْمَفْقُودَةَ فِي :

53, 54, , , 57, ,

7 أَعِدُّ قَفْزِيَّاتٍ عَشَرَاتٍ لِكِتَابَةِ الْأَعْدَادِ الْمَفْقُودَةِ فِي :

14, 24, , 44, , , , 84

أَجِدْ نَاتِجَ الْجَمْعِ:

8 $4 + 9 = \underline{\hspace{2cm}}$

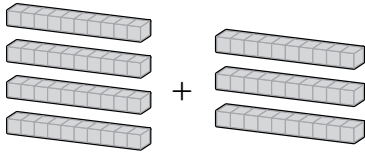
9 $7 + 8 = \underline{\hspace{2cm}}$

10 $10 + 6 = \underline{\hspace{2cm}}$

الدَّرْسُ 1 جَمْعُ الْعَشَرَاتِ

أَجِدْ نَاتِجَ الْجَمْعِ:

1

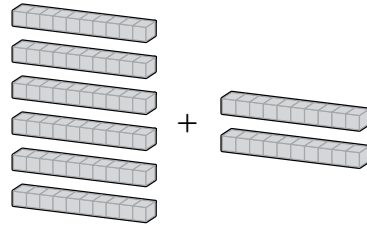


عَشْرَاتٍ عَشْرَاتٍ عَشْرَاتٍ

$$\underline{\hspace{2cm}} + \underline{\hspace{2cm}} = \underline{\hspace{2cm}}$$

$$\underline{\hspace{2cm}} + \underline{\hspace{2cm}} = \underline{\hspace{2cm}}$$

2



عَشْرَاتٍ عَشْرَاتٍ عَشْرَاتٍ

$$\underline{\hspace{2cm}} + \underline{\hspace{2cm}} = \underline{\hspace{2cm}}$$

$$\underline{\hspace{2cm}} + \underline{\hspace{2cm}} = \underline{\hspace{2cm}}$$

3

$$70 + 20 = \underline{\hspace{2cm}}$$

4

$$10 + 40 = \underline{\hspace{2cm}}$$

5

$$50 + 30 = \underline{\hspace{2cm}}$$

6

$$20 + 20 = \underline{\hspace{2cm}}$$

اَكْتُبْ (> , < , أو =) فِي :

7

$$40 + 20 \quad \square \quad 30 + 30$$

8

$$50 + 30 \quad \square \quad 60 + 10$$

9

$$10 + 30 \quad \square \quad 20 + 20$$

10

$$50 + 20 \quad \square \quad 70 + 10$$



11 في مَزْرَعَةٍ 20 شَجَرَةً بُرْتُقَالٍ، و 70 شَجَرَةً لَيْمُونٍ. كَمْ شَجَرَةً فِي الْمَزْرَعَةِ؟

11

الدَّرْسُ 2 الجَمْعُ الذَّهْنِيُّ

الْوَحْدَةُ 6: الجَمْعُ ضَمَّنْ مَرَاتَيْنِ.

أَجِدْ نَاتِجَ الْجَمْعِ ذَهْنِيًّا:

1

$$11 + 50 = \square$$

2

$$39 + 40 = \square$$

3

$$73 + 10 = \square$$

4

$$48 + 20 = \square$$

أَجِدْ الْعَدَدَ الْمَفْقُودَ:

5

$$20 + \square = 26$$

6

$$40 + \square = 78$$

7

$$\square + 5 = 55$$

8

$$\square + 30 = 96$$



9

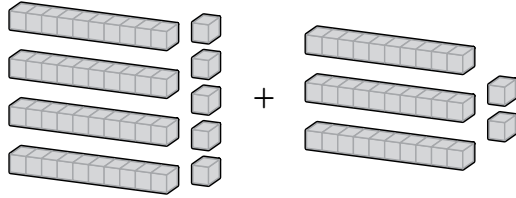
عَدَدُ طَلَبَةِ الصَّفِّ الْأَوَّلِ فِي إِحْدَى الْمَدَارِسِ 22 طَالِبًا، انْتَقَلَ إِلَى الصَّفِّ 6 طَلَبَةٌ جُدِدَ. كَمْ أَصْبَحَ عَدَدُ الطَّلَبَةِ فِي الصَّفِّ؟

10

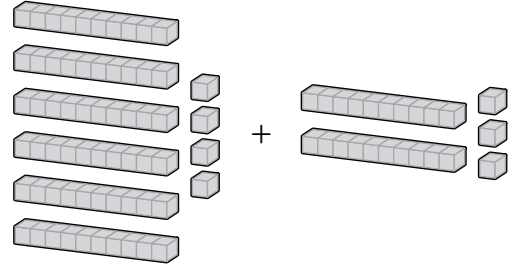
أَعَدَّ عِمَادٌ 36 كَعْكَةً صَغِيرَةً، ثُمَّ أَعَدَّ 20 كَعْكَةً أُخْرَى. كَمْ كَعْكَةً أَعَدَّ عِمَادٌ؟

الدَّرْسُ 3 جَمْعُ عَدَدَيْنِ مِنْ مَنْرَلَتَيْنِ

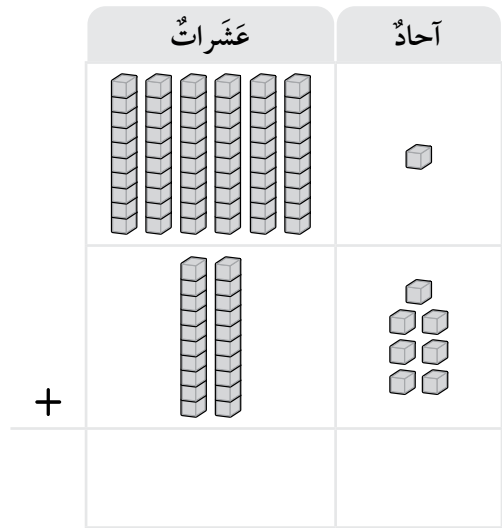
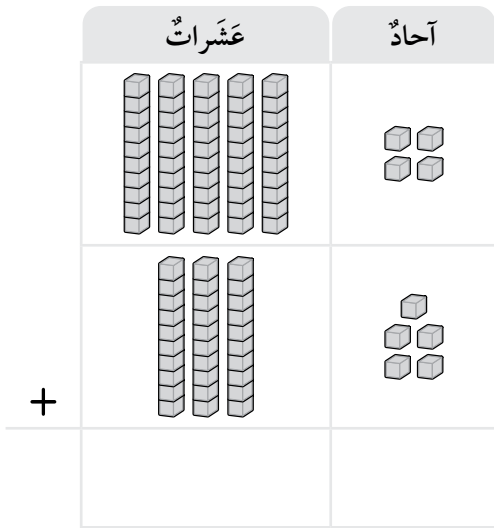
أَجِدْ نَاتِجَ الْجَمْعِ:



$$\square + \square = \square$$



$$\square + \square = \square$$



5

$$71 + 28 = \square$$

6

$$55 + 23 = \square$$

7

$$54 + 12 = \square$$

8

$$42 + 36 = \square$$

وَزَعَتْ رَهْفُ 43 وَجَبَةً عَلَى الْفُقَرَاءِ أَوَّلَ أَيَّامِ شَهْرِ رَمَضَانَ الْمُبَارَكِ، وَوَزَعَتْ فِي الْيَوْمِ الثَّانِي 52 وَجَبَةً. كَمْ وَجَبَةً وَزَعَتْ رَهْفُ فِي الْيَوْمَيْنِ مَعًا؟

9

الدَّرْسُ 4 خُطَّةُ حَلِّ الْمَسْأَلَةِ: التَّخْمِينُ وَالتَّحَقُّقُ

الْوَحْدَةُ 6: الجَمْعُ ضَمَنَ فَرْزَاتَيْنِ.

أَحْلُ الْمَسَائِلَ الْآتِيَّةَ، مُسْتَعْمِلًا التَّخْمِينَ وَالتَّحَقُّقَ:



1 سَجَّلَ رَامِي 21 نُقْطَةً فِي لُعْبَةِ الْكُتْرُونِيَّةِ. إِذَا أَرَادَ تَسْجِيلَ 45 نُقْطَةً، فَكَمْ نُقْطَةً إِضَافِيَّةً يَتَعَيَّنُ عَلَيْهِ تَسْجِيلُهَا؟

24

34

44



2 مَعَ تَمَارِ 41 مُلْصَقًا، وَمَعَ مُهَنِّدٍ مَجْمُوعَةً مِنَ الْمُلْصَقَاتِ. إِذَا كَانَ عَدَدُ الْمُلْصَقَاتِ الَّتِي مَعَهُمَا 78 مُلْصَقًا، فَكَمْ مُلْصَقًا مَعَ مُهَنِّدٍ؟

47

37

57



3 فِي مَحَلٍّ لِبَيْعِ الْوَرْدِ، تَوْجَدُ 65 وَرْدَةً مِنَ الْجُورِيِّ وَالْقَرْنَفْلِ. إِذَا كَانَ عَدَدُ الْوَرْدِ الْجُورِيِّ 24 وَرْدَةً، فَمَا عَدَدُ وَرْدِ الْقَرْنَفْلِ فِي الْمَحَلِّ؟

31

51

41



4 يَوْجَدُ فِي غُرْفَةِ الرِّيَاضَةِ الْمَدْرَسِيَّةِ نَوْعَانِ مِنَ الْكُرَاتِ: كُرَاتُ طَائِرَةٍ، وَكُرَاتُ تَنِيسٍ. إِذَا كَانَ عَدَدُ كُرَاتِ التَّنِيسِ 45 كُرَةً، وَعَدَدُ الْكُرَاتِ جَمِيعِهَا 87 كُرَةً، فَكَمْ كُرَةً طَائِرَةٍ فِي غُرْفَةِ الرِّيَاضَةِ؟

32

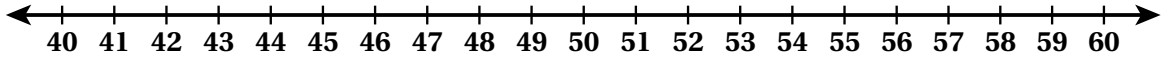
42

52

الْوَحْدَةُ 7 الطَّرْحُ ضَمَنَ مَنْزِلَتَيْنِ

أَسْتَعِدُّ لِدِرَاسَةِ الْوَحْدَةِ

أَسْتَعْمِلُ خَطَّ الْأَعْدَادِ لِأَكْتُبَ الْأَعْدَادَ تَنَازُلِيًّا:



1 57, 56, 55, _____, _____, _____

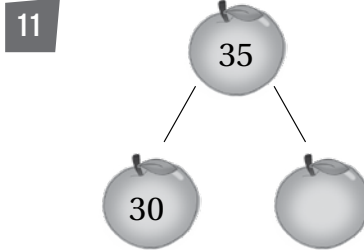
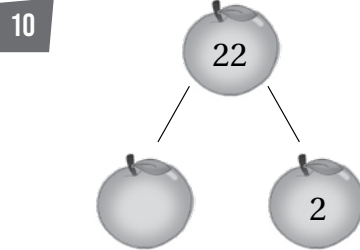
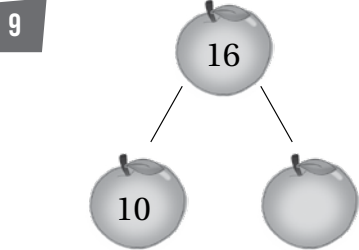
2 49, 48, 47, _____, _____, _____

أَجِدُ نَاتِجَ الطَّرْحِ:

3 $19 - 5 =$ _____ 4 $13 - 7 =$ _____ 5 $17 - 9 =$ _____

6 $15 - 4 =$ _____ 7 $17 - 8 =$ _____ 8 $12 - 3 =$ _____

أَكْتُبُ الْعَدَدَ الْمَفْقُودَ فِي الصِّيغَةِ التَّحْلِيلِيَّةِ:



12 أَكْتُبُ الْعَدَدَ الْمُنَاسِبَ فِي :

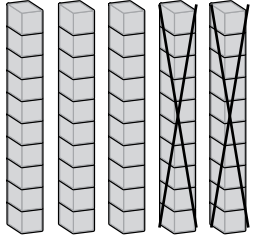


الدَّرْسُ 1 طَرَحُ الْعَشَرَاتِ

الْوَحْدَةُ 7: الطَّرَحُ مِنْ مِائَتَيْنِ.

أَجِدْ نَاتِجَ الطَّرَحِ:

1

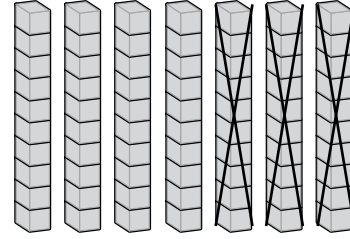


عَشْرَاتٍ عَشْرَاتٍ عَشْرَاتٍ

_____ - _____ = _____

_____ - _____ = _____

2



عَشْرَاتٍ عَشْرَاتٍ عَشْرَاتٍ

_____ - _____ = _____

_____ - _____ = _____

3 $70 - 20 = \underline{\hspace{2cm}}$

4 $40 - 10 = \underline{\hspace{2cm}}$

5 $50 - 40 = \underline{\hspace{2cm}}$

6 $80 - 50 = \underline{\hspace{2cm}}$

اَكْتُبْ (<، أَوْ >، أَوْ =) فِي :

7 $60 - 20$ $70 - 30$

8 $50 - 10$ $70 - 20$

9 $90 - 30$ $30 + 20$

10 $40 + 20$ $80 - 20$





تَقِفْ 30 نَمْلَةً خَارِجَ بَيْتِ النَّمْلِ. إِذَا دَخَلَتْ 10 نَمَلَاتٍ فِي الْبَيْتِ، فَكَمْ نَمْلَةً بَقِيَتْ فِي الْخَارِجِ؟


11


الدَّرْسُ 2 الطَّرْحُ الذَّهْنِيُّ

أَجِدْ نَاتِجَ الطَّرْحِ ذَهْنِيًّا:

1 $68 - 7 =$ 

2 $49 - 6 =$ 

3 $56 - 4 =$ 

4 $99 - 9 =$ 

أَجِدْ نَاتِجَ الطَّرْحِ:

5 $32 - 10 =$

6 $66 - 30 =$

7 $99 - 80 =$

8 $82 - 70 =$

أَجِدْ الْعَدَدَ الْمَفْقُودَ:

9 $88 - \square = 18$

10 $\square - 6 = 73$

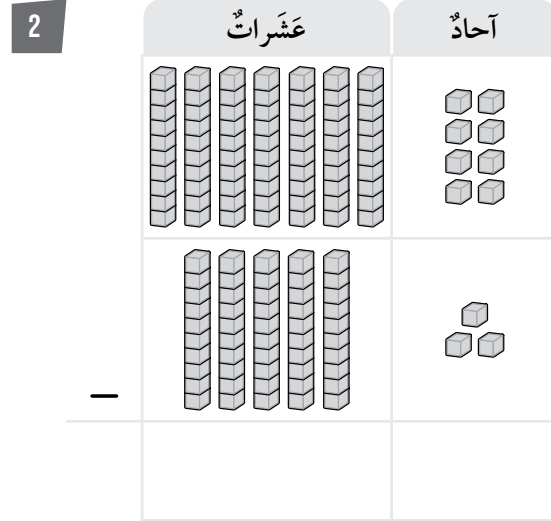
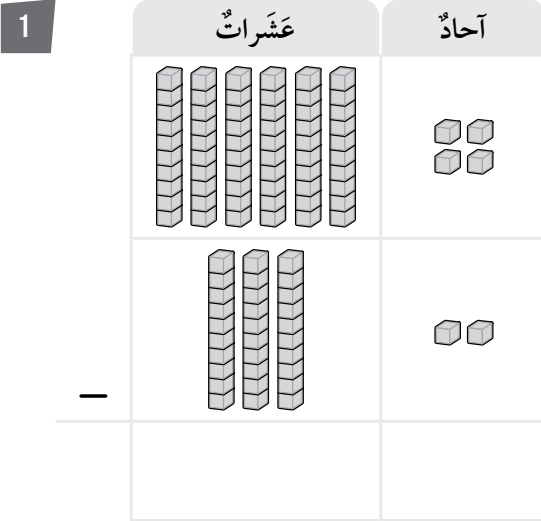
11 $\square - 40 = 36$

12 $67 - \square = 61$

الدَّرْسُ 3 طَرَحُ عَدَدَيْنِ مِنْ مَنَرَلَتَيْنِ

أَجِدْ نَاتِجَ الطَّرَحِ:

الْوَحْدَةُ 7: الطَّرَحُ صِفَمَنْ مَنَرَلَتَيْنِ.



أَجِدْ نَاتِجَ الطَّرَحِ:

3 $78 - 63 = \square$

4 $45 - 22 = \square$

5 $92 - 51 = \square$

6 $88 - 56 = \square$

7 $63 - 23 = \square$

8 $59 - 48 = \square$

9 ما رَقْمُ الْعَشَرَاتِ فِي نَاتِجِ طَرَحِ $48 - 41$ ؟

10 إِذَا كَانَ عُمُرُ رَأْفَتٍ 58 سَنَةً، وَعُمُرُ ابْنَتِهِ مَيَّ 21 سَنَةً، فَمَا الْفَرْقُ بَيْنَ عُمُرِ رَأْفَتٍ وَابْنَتِهِ؟

الدَّرْسُ 4 مَهَارَةُ حَلِّ الْمَسْأَلَةِ: اخْتِيَارُ الْعَمَلِيَّةِ

الْوَحْدَةُ 7: الطَّرْحُ ضَمْنِ مَنْزِلَتَيْنِ.

أَحْوَطُ الْعَمَلِيَّةَ الْمُنَاسِبَةَ لِكُلِّ مَسْأَلَةٍ مِنَ الْمَسَائِلِ الْآتِيَةِ، ثُمَّ أَحْلُهَا:

جَمْعُ أُمِّ طَرْحُ



1 في حافلة ركاب 43 راكبًا، نزل منهم في الموقف الأول 20 راكبًا. كم راكبًا بقي في الحافلة؟

جَمْعُ أُمِّ طَرْحُ



2 اشترى والد مرام 23 حبة جزر، و15 حبة بطاطا. كم حبة جزر وبطاطا اشترى والد مرام؟

جَمْعُ أُمِّ طَرْحُ



3 قطف زياد وhibه 47 حبة مشمش من الشجرة التي في حديقة منزلهم. إذا قطف زياد 15 حبة، فكم حبة مشمش قطفت هبة؟

جَمْعُ أُمِّ طَرْحُ




4 في الإحتفال السنوي الذي تقيمه المدرسة بمناسبة يوم استقلال المملكة الأردنية الهاشمية، شارك 18 طالبًا من طلبة الصف الأول في الحفل، و21 طالبًا من طلبة الصف الثاني. كم طالبًا شارك في الحفل؟


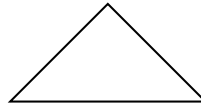
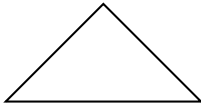
أَسْتَعِدُّ لِدِرَاسَةِ الْوَحْدَةِ

أُلَوِّنُ الْأَشْكَالَ الْمُتَشَابِهَةَ فِي كُلِّ صَفٍّ بِاللَّوْنِ نَفْسِهِ:


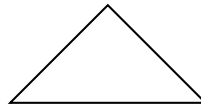


1




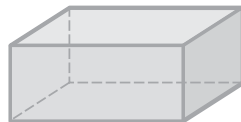
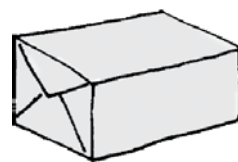

2



3



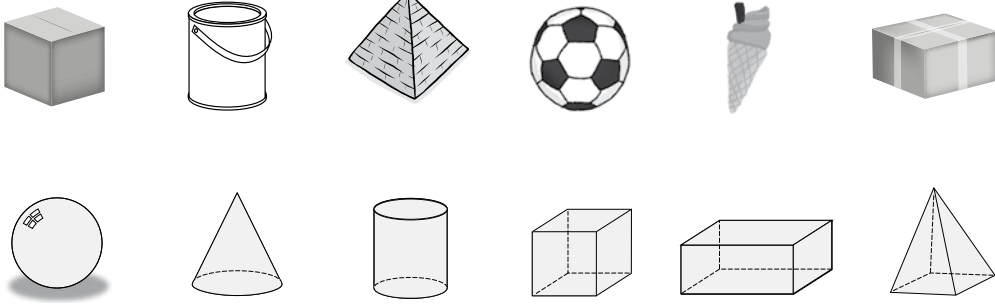
4 أَصِلُ الشَّيْءَ بِالْمُجَسِّمِ الَّذِي يُشَبِّهُهُ:



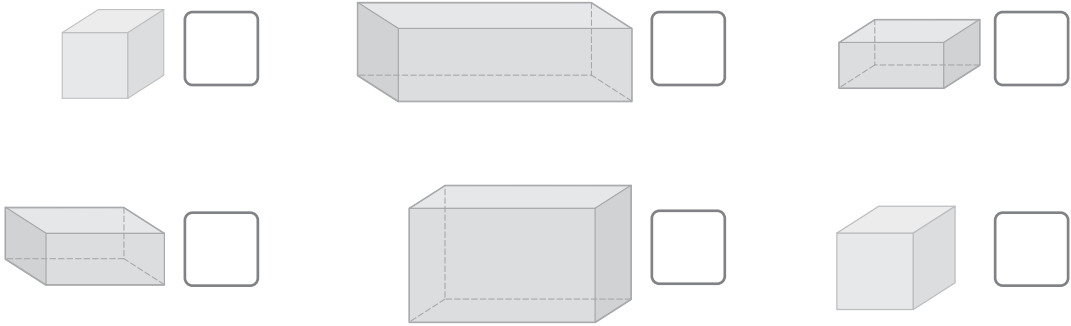
الدَّرْسُ 1 المَجَسَّمَاتُ

الْوَحْدَةُ 8: الأشكال الهندسية.

1 أَصِلْ بِخَطٍّ بَيْنَ الشَّيْءِ وَالْمَجَسَّمِ الَّذِي يُمَائِلُهُ:



2 أَضَعْ إِشَارَةً (✓) بِجَانِبِ الْمُكَعَّبِ:

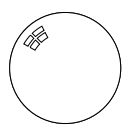
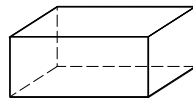
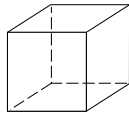
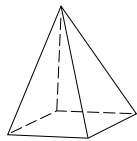


أَلْوَنُ بِالْأَحْمَرِ الْمَجَسَّمِ الَّذِي يُمَائِلُ شَكْلَ الْمَجَسَّمِ فِي بَدَايَةِ الصَّفِّ:

3



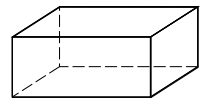
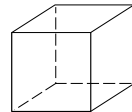
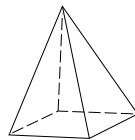
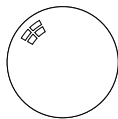

الْكُرَّةُ



4



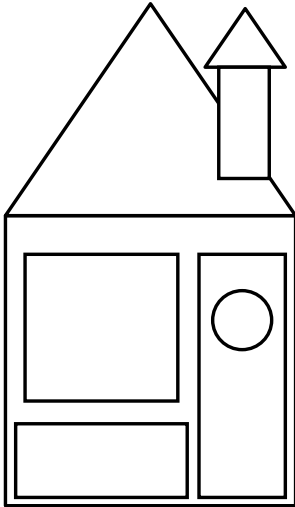
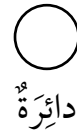
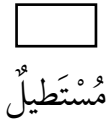

الْمِهْرَمُ



الدَّرْسُ 2 الأشكالُ المُستَوِيَّةُ

الْوَحْدَةُ 8: الأشكال الهندسية.

1 أصِلُ الْبَالُونُ بِالشَّكْلِ الْمُنَاسِبِ:



2 أُلَوِّنُ الْمَنْزِلَ الْمُجَاوِرَ بِحَسَبِ مِفْتَاحِ اللَّوْنِ:

أَحْمَرُ: ▲ أَزْرَقُ: ○

أَصْفَرُ: □ أَخْضَرُ: ▭


3 أُلَوِّنُ بِحَسَبِ مِفْتَاحِ اللَّوْنِ:

أَصْفَرُ: □

أَحْمَرُ: ▭

أَزْرَقُ: ○

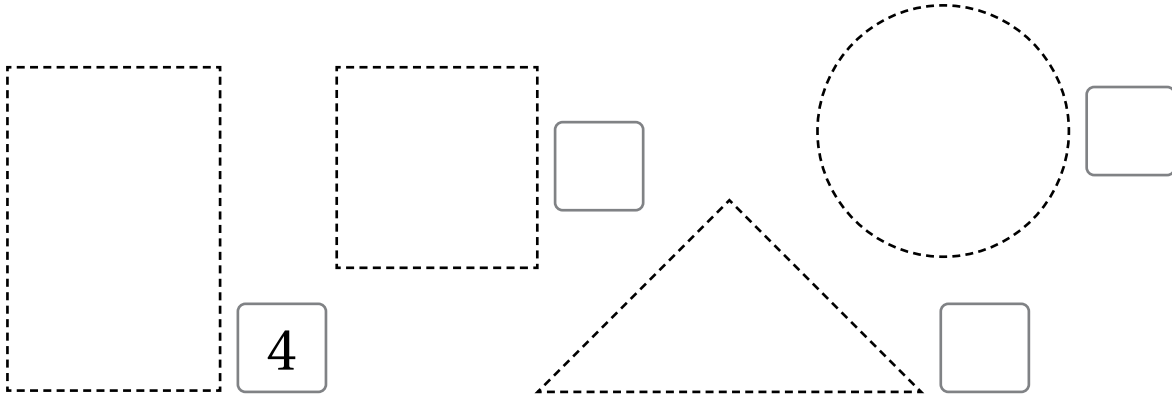
أَخْضَرُ: ▲



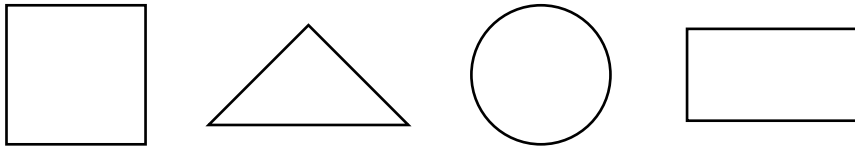
الدَّرْسُ 3 أَضْلَاعُ الْأَشْكَالِ الْمُسْتَوِيَّةِ وَرُؤُوسُهَا

الْوَحْدَةُ 8: الْأَشْكَالُ الْهَنْدَسِيَّةُ.

1 أَمَرُّ قَلَمِي فَوْقَ الْخَطِّ الْمُنْقَطِ، ثُمَّ أَكْتُبُ عَدَدَ الْأَضْلَاعِ فِي □ :



2 أَصِلُ الشَّكْلَ بِالصُّنْدُوقِ الْمُنَاسِبِ:




0 رَأْس

4 أَضْلَاع

3 رُؤُوس

3 أَرَسُمُ عَلَى الشَّبَكَةِ الْمُنْقَطَةِ مِثْلًا، وَمُرَبَّعًا، وَمُسْتَطِيلًا:

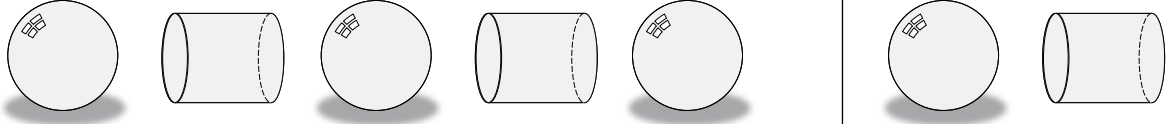


الدَّرْسُ 4 الأنماط الهندسيّة

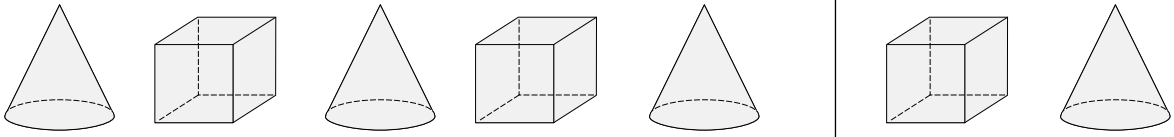
الوحدة 8: الأشكال الهندسيّة.

أحَوِّطُ الشَّكْلَ التَّالِيَّ فِي النَّمَطِ:

1

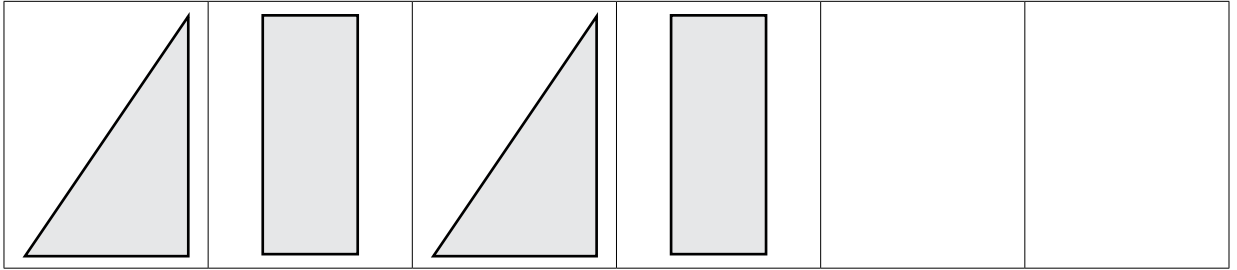


2

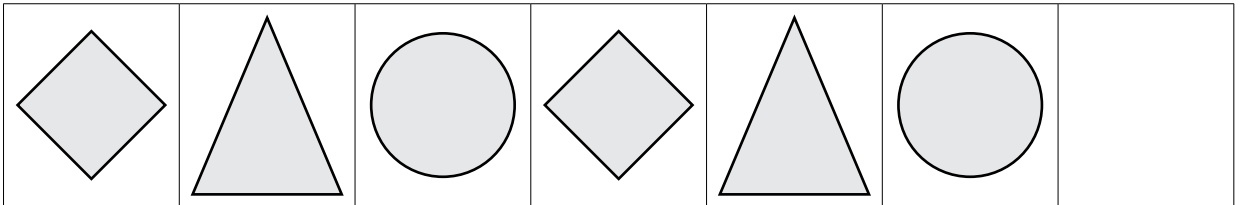


أحَوِّطُ وَحْدَةَ النَّمَطِ، ثُمَّ أَكْمِلُهُ بِرِسْمِ الْأَشْكَالِ الْمُنَاسِبَةِ:

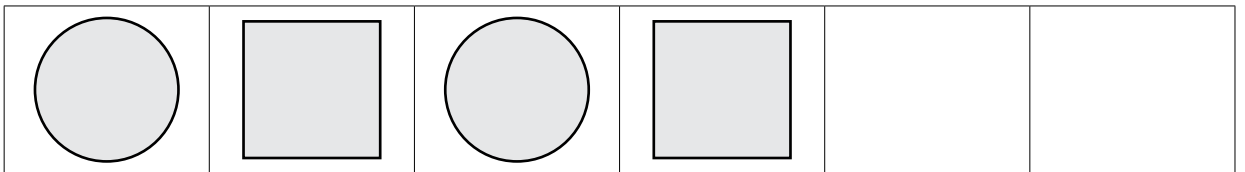
3



4



5



أَسْتَعِدُّ لِدِرَاسَةِ الْوَحْدَةِ

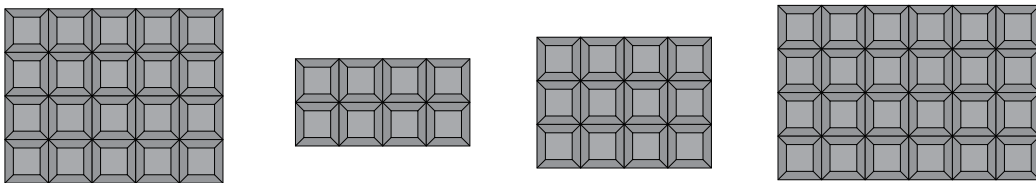
1 أَصِلْ بَيْنَ نِصْفِي الْحَشْرَةِ:




2 أَحْوَطُ الشَّيْءَ الْمَقْسُومَ إِلَى نِصْفَيْنِ:



3 أَرَسِّمْ بِقَلَمِي خَطًّا لِأَقْسِمِ قِطْعَةَ الشُّوْكَوْلَاتَةِ إِلَى نِصْفَيْنِ:



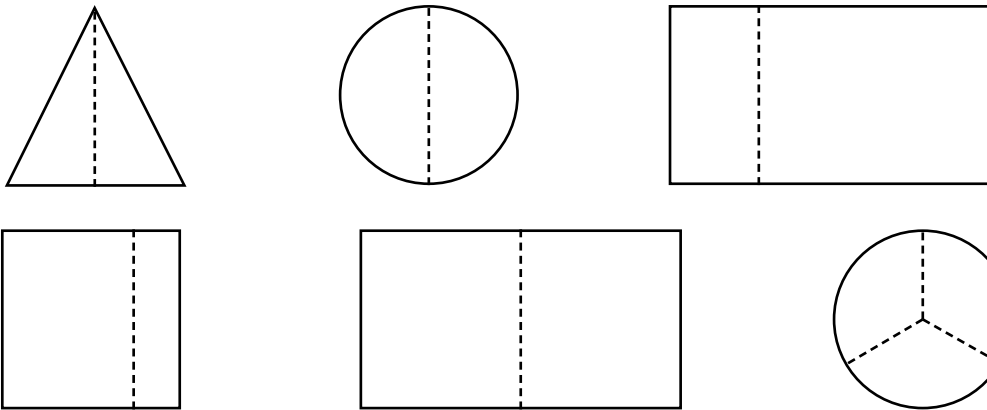

4 تَقَاسَمْ هَادِي وَرَهْفُ 14 كَعْكَةً بِالتَّسَاوِي. كَمْ كَعْكَةً أَخَذَ كُلُّ مِنْهُمَا؟



الدَّرْسُ 1 الأجزاء المتطابقة

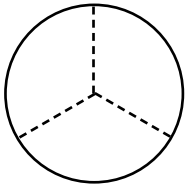
الوحدة 9: النُصُور.

1 أَلَوْنُ الشَّكْلِ الَّذِي أَجْزَاؤُهُ مُتَطَابِقَةٌ:

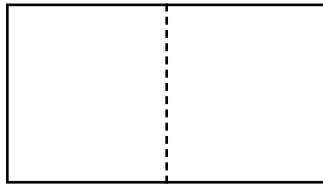


أَكْتُبْ عَدَدَ الْأَجْزَاءِ الْمُتَطَابِقَةِ:

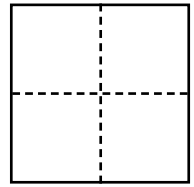
2



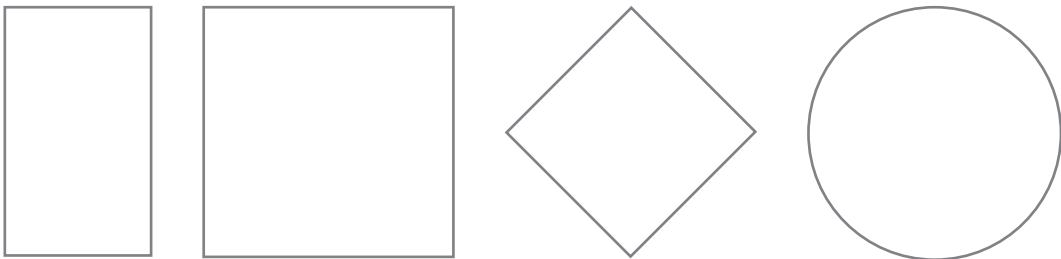
3



4



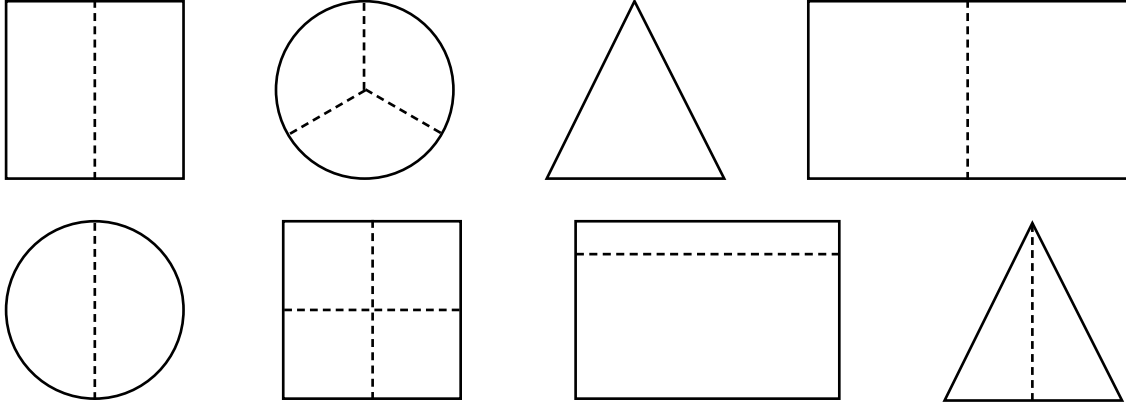
5 أَقْسِمُ كُلًّا مِنَ الْأَشْكَالِ الْآتِيَةِ إِلَى 4 أَجْزَاءٍ مُتَطَابِقَةٍ:



الدَّرْسُ 2 النِّصْفُ

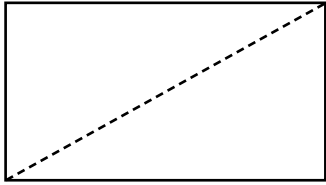
الْوَحْدَةُ 9: الكُسُورُ.

1 أُحَوِّطُ الشَّكْلَ الْمُقَسَّمِ إِلَى جُزْأَيْنِ مُتطَابِقَيْنِ:



أَلَوْنُ نِصْفِ الشَّكْلِ، ثُمَّ أَكْتُبُ الْكُسْرَ الَّذِي يُمَثِّلُ عَدَدَ الْأَجْزَاءِ الَّتِي لَوْنَتْهَا:

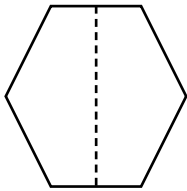
2



عَدَدُ الْأَجْزَاءِ الْمُلَوَّنَةِ:

عَدَدُ الْأَجْزَاءِ الْمُتطَابِقَةِ:

3



عَدَدُ الْأَجْزَاءِ الْمُلَوَّنَةِ:


عَدَدُ الْأَجْزَاءِ الْمُتطَابِقَةِ:

أَضَعُ إِشَارَةَ (✓) بِجَانِبِ الشَّكْلِ الَّذِي يُمَثِّلُ النِّصْفَ:

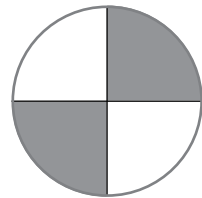
4



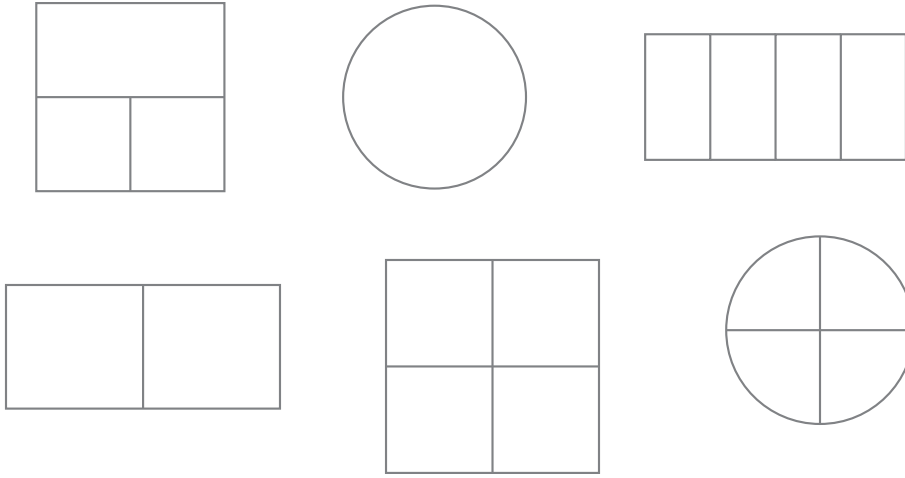
5



6

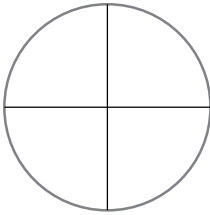


1 أَحْوَطُ الشَّكْلَ الْمُقْسَمَ إِلَى 4 أَجْزَاءٍ مُتَطَابِقَةٍ:



أَلَوْنُ رُبْعِ الشَّكْلِ، ثُمَّ أَكْتُبُ النُّكْسَرَ الَّذِي يُمَثِّلُ عَدَدَ الْأَجْزَاءِ الَّتِي لَوْنَتْهَا:

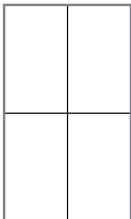
2



عَدَدُ الْأَجْزَاءِ الْمُلَوَّنةِ:

عَدَدُ الْأَجْزَاءِ الْمُتَطَابِقَةِ:

3

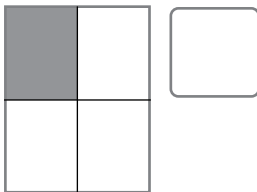


عَدَدُ الْأَجْزَاءِ الْمُلَوَّنةِ:

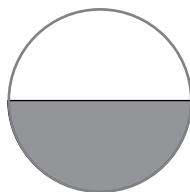
عَدَدُ الْأَجْزَاءِ الْمُتَطَابِقَةِ:

أَضَعُ إِشَارَةَ (✓) بِجَانِبِ الشَّكْلِ الَّذِي يُمَثِّلُ الرُّبْعَ:


4



5



6




الدَّرْسُ 4 الْكَسْرُ كَجُزٍّ مِنْ مَجْمُوعَةٍ


الْوَحْدَةُ 9: الْكُسُورُ.

أَلَوِّنُ جُزْءًا وَاحِدًا مِنْ كُلِّ مَجْمُوعَةٍ، ثُمَّ أَكْتُبُ الْكَسْرَ الَّذِي يُعَبِّرُ عَنِ الْجُزْءِ الْمُلَوَّنِ:

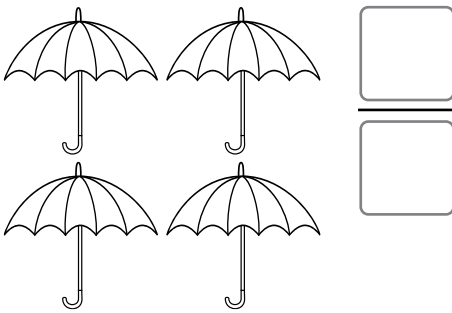
1




2



3




4




أَكْتُبُ الْكَسْرَ الَّذِي يُعَبِّرُ عَنْ عَدَدِ الْأَجْزَاءِ الْمُلَوَّنةِ فِي كُلِّ مَجْمُوعَةٍ:

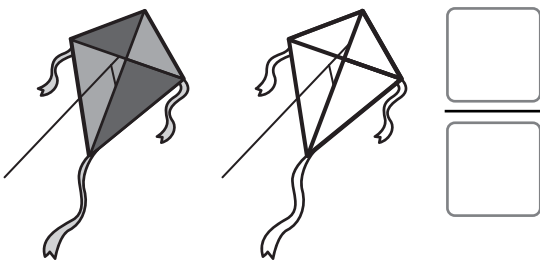
5




6



7



8



أَسْتَعِدُّ لِدِرَاسَةِ الْوَحْدَةِ

أُحَوِّطُ الْوَقْتَ مِنَ الْيَوْمِ الَّذِي أَقُومُ فِيهِ بِالْأَنْشِطَةِ الْآتِيَةِ:

1



لَيْلاً نَهَاراً

2



لَيْلاً نَهَاراً

3



لَيْلاً نَهَاراً

أَذْكُرُ عَمَلاً أَقُومُ بِهِ بَعْدَ مُمَارَسَةِ كُلِّ عَمَلٍ مِنَ الْأَعْمَالِ الْآتِيَةِ:

4



5



6



أَذْكُرُ اسْمَ الْقِطْعَةِ النَّقْدِيَّةِ:

7



8



9



الدَّرْسُ 1 أَيَّامُ الْأُسْبُوعِ

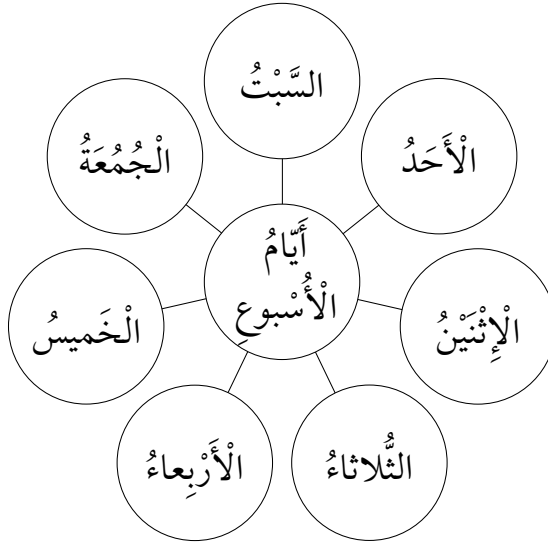
1 أَكْتُبُ أَيَّامَ الْأُسْبُوعِ الْمَفْقُودَةَ:

1



2 أَلَوِّنْ أَيَّامَ عُطْلَةٍ نِهَايَةِ الْأُسْبُوعِ بِاللَّوْنِ الْأَحْمَرِ، وَالْأَيَّامَ الْأُخْرَى بِاللَّوْنِ الْأَزْرَقِ:

2



3 أَكْتُبُ يَوْمَ أَمْسٍ، وَيَوْمَ غَدٍ:

3

أَمْسٍ	اليَوْمَ	غَدًا
	الاِثْنَيْنِ	
	الْجُمُعَةُ	
	الأَرْبَعاءُ	

الدَّرْسُ 2 تَرْتِيبُ الْأَعْمَالِ الْيَوْمِيَّةِ

الْوَحْدَةُ 10: الزَّمَنُ وَالنُّفُودُ.

1

أَكْتُبْ 1، وَ 2، وَ 3، وَ 4 فِي □ لِأُرْتَبِ الْأَعْمَالِ بِحَسَبِ حَدُوثِهَا:



2

أَكْتُبْ 1، وَ 2، وَ 3، وَ 4 فِي □ لِأُرْتَبِ الْأَعْمَالِ بِحَسَبِ حَدُوثِهَا:



أَضْعُ الْوِعَاءَ فِي الشَّمْسِ.



أَضْعُ التُّرْبَةَ فِي الْوِعَاءِ.



أَسْقِي النَّبَتَةَ.



أَضْعُ الْبُذُورَ فِي الْوِعَاءِ، ثُمَّ أَعْطِهَا بِالتُّرْبَةِ.

أَرْسُمُ عَمَلَيْنِ أَقُومُ بِهِمَا بَعْدَ أَنْ أَسْتَقِظَ مِنَ النَّوْمِ:


3

الدَّرْسُ 3 الْوَقْتُ بِالسَّاعَاتِ الْكَامِلَةِ

الْوَحْدَةُ 10: الزَّمَنُ وَالْأَقْوَدُ.


أَقْرَأُ الْوَقْتَ، ثُمَّ أَكْتُبُهُ فِي السَّاعَةِ الرَّقْمِيَّةِ:

1




:

2



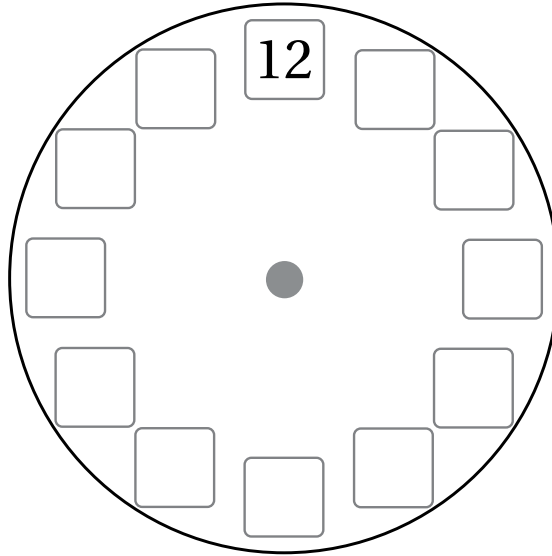
:

3




:

4 أَكْتُبُ الْأَعْدَادَ الْمَفْقُودَةَ فِي السَّاعَةِ، ثُمَّ أَرَسُمُ عَقْرَبِي السَّاعَاتِ وَالَدَّقَائِقِ، بِحَيْثُ يُشِيرَانِ إِلَى السَّاعَةِ الرَّابِعَةِ:



5

بَدَأَ عَرَضُ بَرْنَامِجٍ عَلَى التِّلْفَازِ السَّاعَةِ الثَّلَاثَةِ، وَاسْتَمَرَّ عَرَضُهُ مُدَّةَ سَاعَتَيْنِ. أَرَسُمُ عَقْرَبِي السَّاعَاتِ وَالَدَّقَائِقِ عَلَى السَّاعَةِ الْمُجَاوِرَةِ، بِحَيْثُ يُشِيرَانِ إِلَى وَقْتِ انْتِهَاءِ الْبَرْنَامِجِ.




الدَّرْسُ 4 الْوَقْتُ بِنِصْفِ السَّاعَةِ

الْوَحْدَةُ 10: الزَّمَنُ وَالنُّقُودُ.


أَحْوَطُ السَّاعَةَ الرَّقْمِيَّةَ الْمُنَاطِقَةَ لِلْوَقْتِ فِي السَّاعَةِ ذَاتِ الْعَقَارِبِ:

1



6:30 5:30


2



4:30 3:30


أَقْرَأُ الْوَقْتَ، ثُمَّ أَكْتُبُهُ فِي السَّاعَةِ الرَّقْمِيَّةِ:

3



:

4




:

5




:

6




:

7



:

8




:

أَرْسُمُ عَقْرَبِي السَّاعَةِ بِحَسَبِ الْوَقْتِ الْمُعْطَى فِي السَّاعَةِ الرَّقْمِيَّةِ:


9

11:30



10

7:30



الدَّرْسُ 5 القِطْعُ النَقْدِيَّةُ

الْوَحْدَةُ 10: الزَّمَنُ وَالنُّقُودُ.

أَجِدْ مَجْمُوعَ الْقِطْعِ النَقْدِيَّةِ:

1



المَجْمُوعُ

2



المَجْمُوعُ

أَصِلْ بَيْنَ الْقِطْعِ النَقْدِيَّةِ وَمَجْمُوعِهَا:


3



20 قِرْشًا.





15 قِرْشًا.



10 قُرُوشٍ.

أَكْمِلْ (أَوْ أَضَعْ) رَسَمَ الْقِطْعِ النَقْدِيَّةِ لِيَتَّحِ الْمَجْمُوعُ الْمَطْلُوبُ فِي كُلِّ صَفٍّ:

4




المَجْمُوعُ	
45 قِرْشًا	
70 قِرْشًا	

الدَّرْسُ 6 القِطْعُ النَقْدِيَّةُ الْمُتَسَاوِيَةُ

الْوَحْدَةُ 10: الزَّمَنُ وَالنُّقُودُ.


أَرَسِّمْ (أَوْ أَضَعْ) قِطْعًا نَقْدِيَّةً مُخْتَلِفَةً تُمَثِّلُ الْمَجْمُوعَ نَفْسَهُ:

1

أَرَسِّمْ (أَوْ أَضَعْ) قِطْعًا نَقْدِيَّةً لِأُمْتَلِ مَبْلَغَ 75 قَرَشًا بِثَلَاثِ طَرَائِقَ مُخْتَلِفَةٍ:

2



أَرَسِّمْ (أَوْ أَضَعْ) أَقَلَّ عَدَدٍ مِنَ الْقِطْعِ النَقْدِيَّةِ لِأُمْتَلِ مَبْلَغَ 80 قَرَشًا:

3


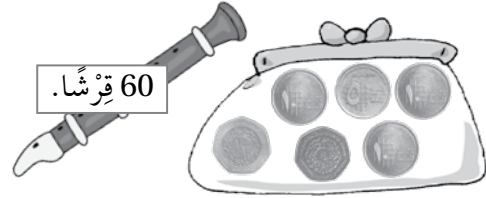
الدَّرْس 7 اسْتِعْمَالُ الْقِطْعِ النَقْدِيَّةِ

أُحَوِّطُ الْقِطْعَ النَقْدِيَّةَ اللَّازِمَةَ لِشِرَاءِ الْأَشْيَاءِ الْآتِيَةِ:

1



2



3

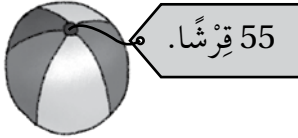


4



أَجِدُ مَجْمُوعَ الْقِطْعِ النَقْدِيَّةِ، ثُمَّ أَرَسُمُ ☺ أَوْ ☹ لِتَحْدِيدِ إِذَا كَانَتِ الْقِطْعُ النَقْدِيَّةُ الَّتِي مَعِيَ تَكْفِي لِشِرَاءِ الشَّيْءِ الْمُبَيَّنِ فِي مَا يَأْتِي:

5



6



7



أَسْتَعِدُّ لِدِرَاسَةِ الْوَحْدَةِ

أُحَوِّطُ الشَّيْءَ الْأَطْوَلَ:

1



2





3




أُحَوِّطُ الشَّيْءَ الْأَكْبَرَ:

4



5



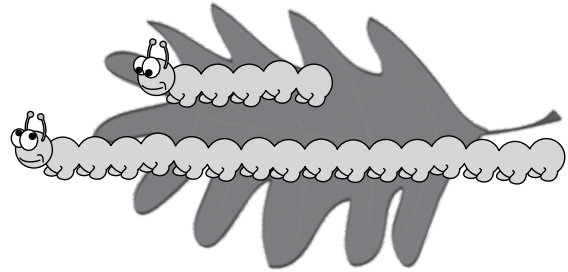

الدَّرْسُ 1 مُقَارَنَةُ الْأَطْوَالِ وَتَرْتِيبُهَا

1 أَحْوَطُ الدَّودَةَ الْأَطْوَلَ:

1

2 أَحْوَطُ الدَّودَةَ الْأَقْصَرَ:

2



3 أَرَسُمُ فُرْشَاءَ أَطْوَلَ:

3



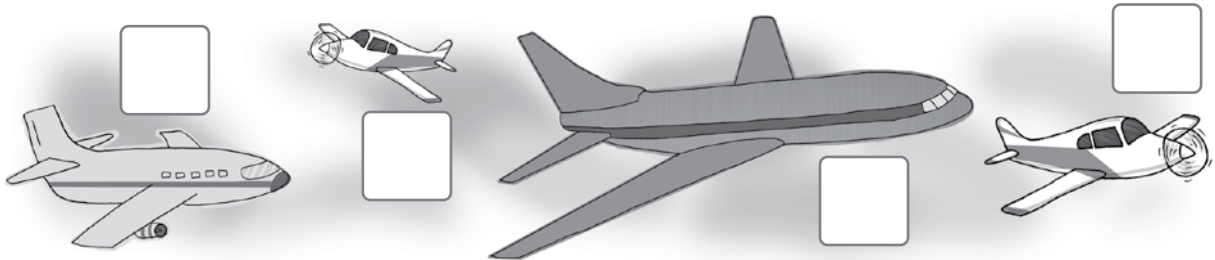
4 أَرَسُمُ شَرِيطًا أَقْصَرَ:

4




5 أَرَتَّبُ الطَّائِرَاتِ مِنَ الْأَقْصَرِ إِلَى الْأَطْوَلِ، ثُمَّ أَكْتُبُ الْأَرْقَامَ 1، وَ2، وَ3 وَ4، بَدْءًا بِالْأَقْصَرِ:


5




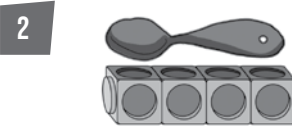
الدَّرْسُ 2 وَحَدَاتُ الطُّولِ غَيْرُ الْقِيَاسِيَّةِ


الْوَحْدَةُ 11: القِيَّاسُ

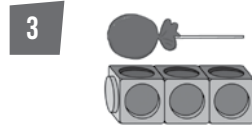
كَمْ  طَوْلُ كُلِّ مِمَّا يَأْتِي:





تَقْرِيْبًا  _____ .




تَقْرِيْبًا  _____ .




تَقْرِيْبًا  _____ .

أَبْحَثْ عَنِ الْأَشْيَاءِ الْآتِيَةِ، ثُمَّ أَقِيسْ طَوْلَ كُلِّ مِنْهَا بِاسْتِعْمَالِ  :





تَقْرِيْبًا  _____ .



تَقْرِيْبًا  _____ .



تَقْرِيْبًا  _____ .

أَبْحَثْ عَنِ الْأَشْيَاءِ الْآتِيَةِ، ثُمَّ أَقِيسْ طَوْلَ كُلِّ مِنْهَا بِاسْتِعْمَالِ  :



تَقْرِيْبًا _____ .



تَقْرِيْبًا _____ .



تَقْرِيْبًا _____ .



تَقْرِيْبًا _____ .



تَقْرِيْبًا _____ .



تَقْرِيْبًا _____ .

الدَّرْسُ 3 مُقَارَنَةُ الْكُتْلِ وَتَرْتِيبُهَا


الْوَحْدَةُ 11: الْقِيَاسُ

أُحَوِّطُ الْحَيَوَانَ الْأَثْقَلَ:

1

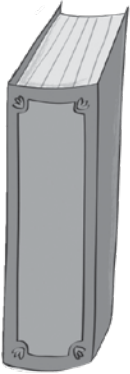


2



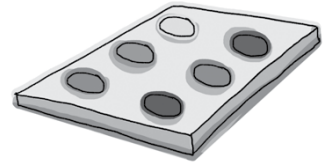

أُحَوِّطُ أَخَفَّ شَيْئَيْنِ:

3



أُرَتِّبُ الْأَشْيَاءَ مِنَ الْأَخَفِّ إِلَى الْأَثْقَلِ، ثُمَّ أَكْتُبُ الْأَرْقَامَ 1، وَ2، وَ3، بَدءًا بِالْأَخَفِّ:

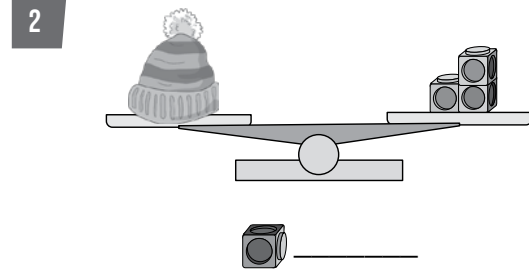
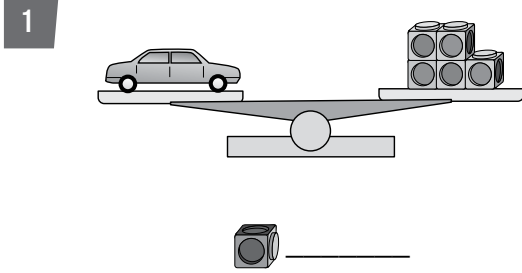
4



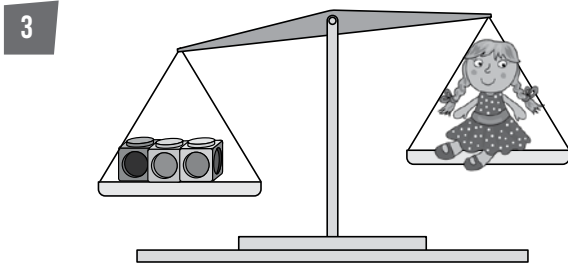
الدَّرْسُ 4 وَحَدَاتُ الْكُتْلَةِ غَيْرُ الْقِيَاسِيَّةِ

الوحدة 11: القياس

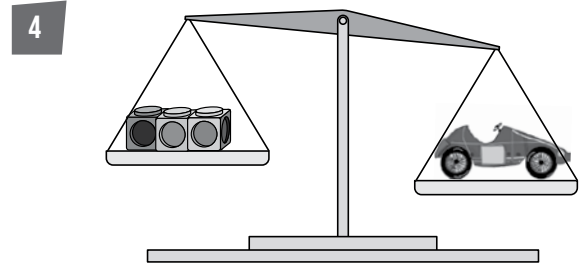
اَكْتُبْ عَدَدَ الْمُكَعَّاتِ الَّتِي تُمَثِّلُ قِيَاسَ الْأَشْيَاءِ الْآتِيَةِ:



هَلْ أُضِيفُ مُكَعَّاتٍ أَمْ أُنْقَصُ مِنْهَا لِيَتَّزَنَ الْمِيزَانُ؟




أُضِيفُ أُنْقَصُ



أُضِيفُ أُنْقَصُ

5 إذا كَانَ = ، = ، ، فَأَرَسُمُ مُكَعَّاتٍ لِيَتَّزَنَ الْمِيزَانُ.




الدَّرْسُ 5 مُقَارَنَةُ السَّعَاتِ وَتَرْتِيبُهَا


الْوَحْدَةُ 11: القِيَّاسُ

أُحَوِّطُ الشَّيْءَ الَّذِي سَعَتُهُ أَقَلُّ:

1

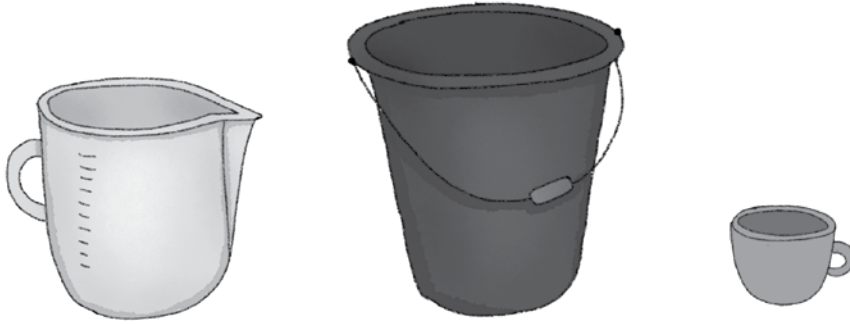


2



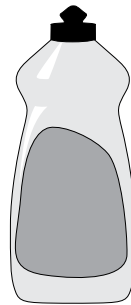
أُحَوِّطُ الشَّيْءَ الَّذِي سَعَتُهُ أَكْبَرُ:

3



أُرَتِّبُ الْأَشْيَاءَ مِنَ الْأَقَلِّ سَعَةً إِلَى الْأَكْبَرِ سَعَةً، ثُمَّ أَكْتُبُ الْأَرْقَامَ 1، وَ2، وَ3 وَ4، بَدْءًا بِالشَّيْءِ الْأَقَلِّ سَعَةً:

4



الدَّرْسُ 6 وَحَدَاتُ السَّعَةِ غَيْرُ الْقِيَاسِيَّةِ

الْوَحْدَةُ 11: القِيَّاسُ

أَحْوَطُ تَقْدِيرَ السَّعَةِ الْمُنَاسِبِ لِكُلِّ وِعَاءٍ:

1



20 5

2




6 1

3



8 2

4



30 10

5



50 5

6



60 6

7 أَحْوَطُ الْوِعَاءَ الْأَفْضَلَ لِتَعْبِئَةِ الْحَوْضِ الْكَبِيرِ، مُبَرَّرًا إِجَابَتِي:

